

**MAGYAR KERESKEDELMI ÉS IPARKAMARA**

**SZINTVIZSGA  
SZAKMAI GYAKORLATI FELADAT  
27/2012. (VIII. 27) NGM rendelet alapján**

**”C” feladat**

**Szakképesítés azonosító száma, megnevezése:  
34 521 06 Hegesztő**

**Szintvizsga időtartama: 300 perc  
Elérhető maximális pontszám: 100 pont**

## **„C” feladat**

### **C/I.:**

#### **A munkafeladat:**

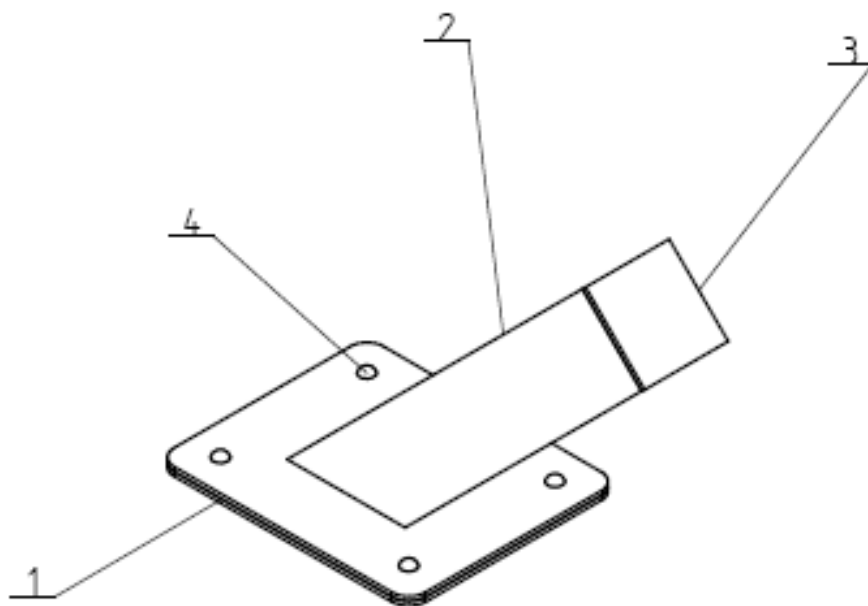
**Az alkatrész gyártása előtt, a mellékelt rajzok alapján határozza meg a Konzol gyártási technológiájának sorrendjét (műveleti sorrend).**

**Állítsa össze a szerkezetet, valamint végezze el a jelölt hegesztéseket! (80 pont)**

#### **Kiegészítő információk:**

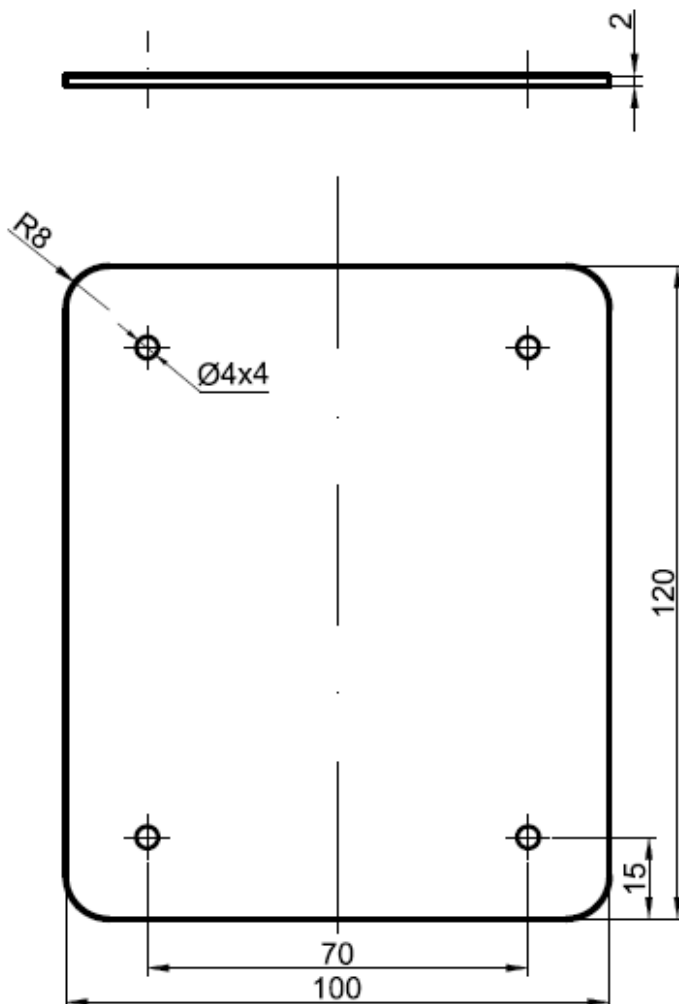
- **Folyamatosan ellenőrizze a készítés folyamata során a méreteket (geometriai és varratméret), szükség szerint végezze el a szükséges korrekciókat (pl.: egyengetés)!**
- **A rajz szerint tervezze meg a hegesztések sorrendjét.**
- **Az ellenőrzés után tisztítsa meg a munkadarabot és helyezze el a kijelölt helyen!**

**Alapvető követelmény a Hegesztési Biztonsági Szabályzat és a műhelyi munkára kidolgozott munka és tűzvédelmi szabályok betartása.**

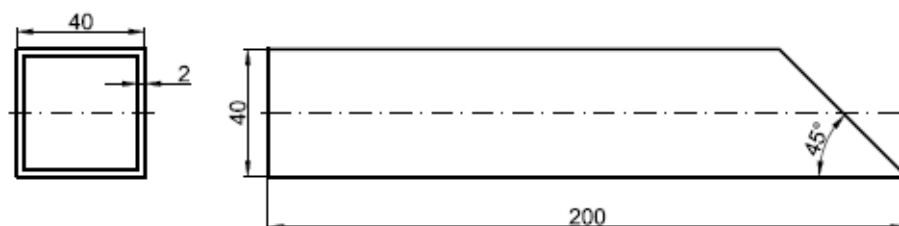


4	Acél félgömbf. szegecs	-		4x10	4
3	Záró lemez	LS-2-03	S235JR	40x40x2	1
2	Zártszelvény	LS-2-02	S235JR	40x40x200	1
1	Alaplemez	LS-2-01	S235JR	120x100x2	2
Sorsz.	Megnevezés	Rajzszám	Anyag	Méret	Menny.
Tervezte:		Konzol		Méretarány:	Anyag:
Rajzolta:					S235JR
Dátum:	2012.09.06.			Rajzszám:	
				LS-2-00	

32/

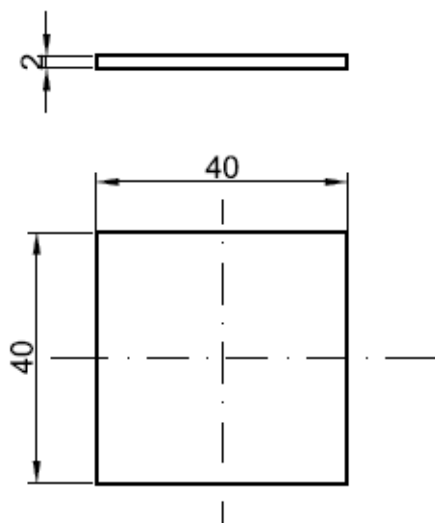


Tervezte:		Megnevezés:	Méretarány:	Anyag:
Rajzolta:		<b>Alaplemez</b>		S235JR
Dátum:	2012.09.06		Rajzszám:	LS-02-01

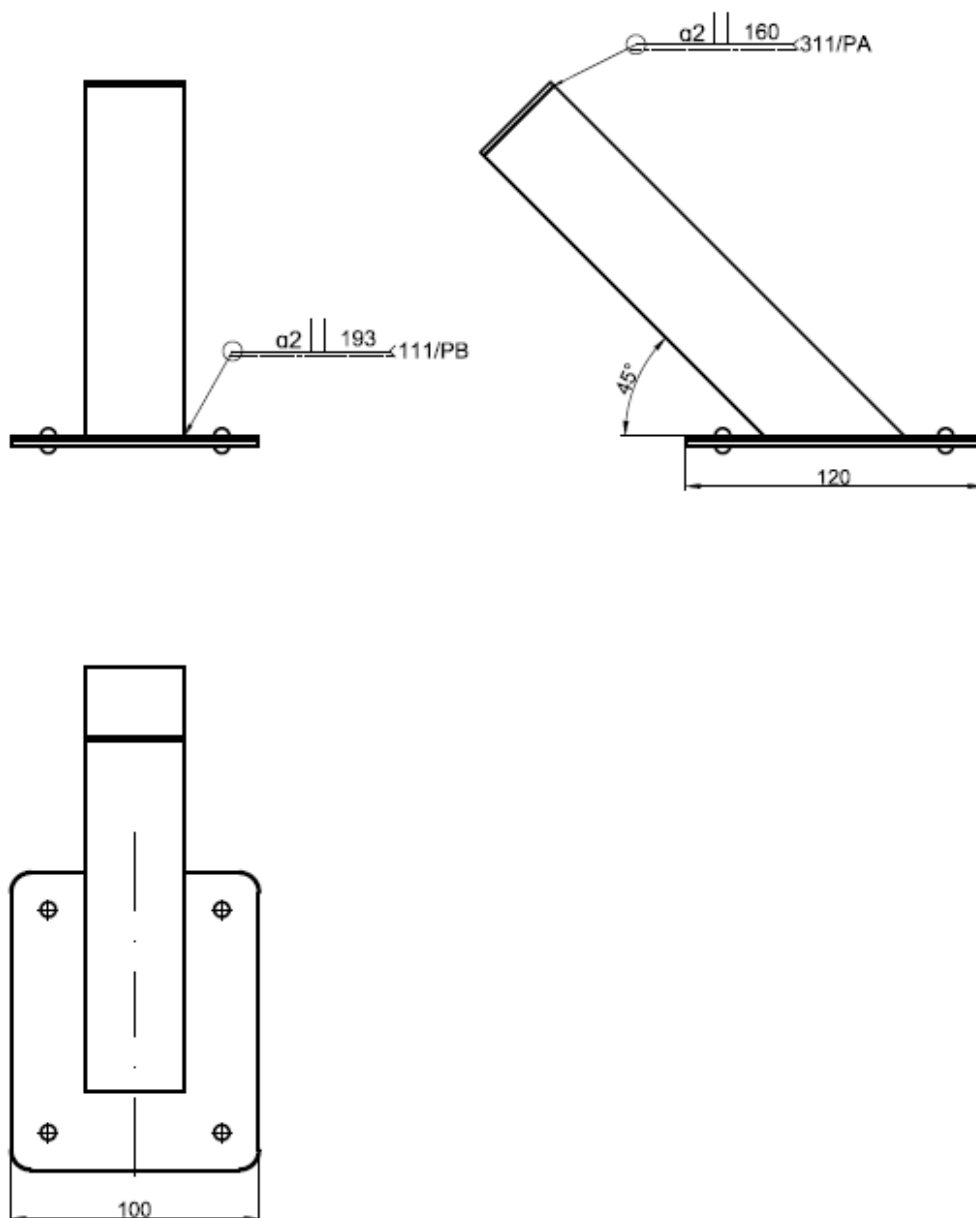


Tervezte:		Megnevezés: <b>Zártszelvény</b>	Méretarány:	Anyag:
Rajzolta:				S235JR
Dátum:	2012.09.06		Rajzszám:	LS-2-02

32 ✓



Tervezte:		Megnevezés: <b>Zárólemez</b>	Méretarány:	Anyag:
Rajzolta:				S235JR
Dátum:	2012.09.06		Rajzszám:	LS-2-03



Tervezte:		Megnevezés: <b>Konzol</b>	Méretarány:	Anyag:
Rajzolta:				S235JR
Dátum:	2012.09.06		Rajzszám:	LS-2-04

**C/II.:**

**A feladat leírása:**

**Egy hegesztési varrat megmunkálása közben kollegája váratlanul összeesik kezében egy még mindig működő sarokköszörűvel (20 pont)**

**Feladat:**

- Ismertesse az áramütött sérült ellátásának módjait!
- Részesítse elsősegélyben a sérültet!